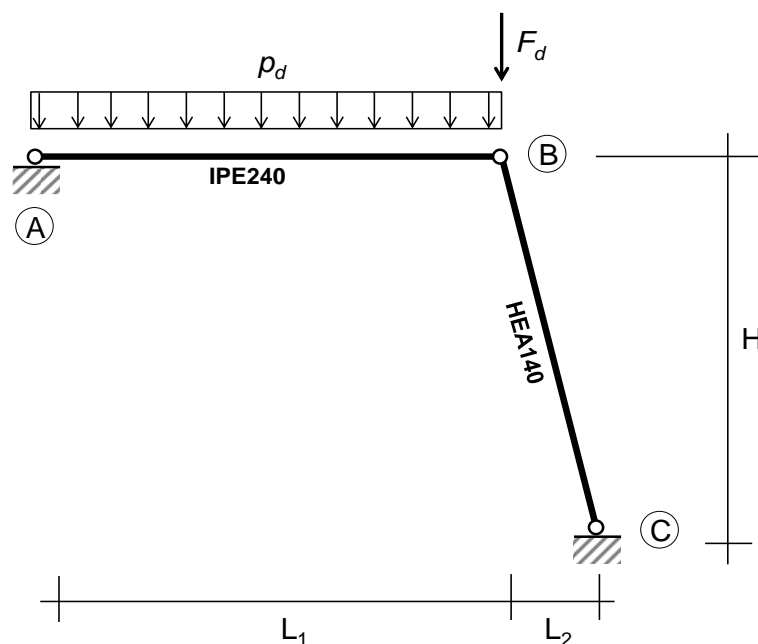


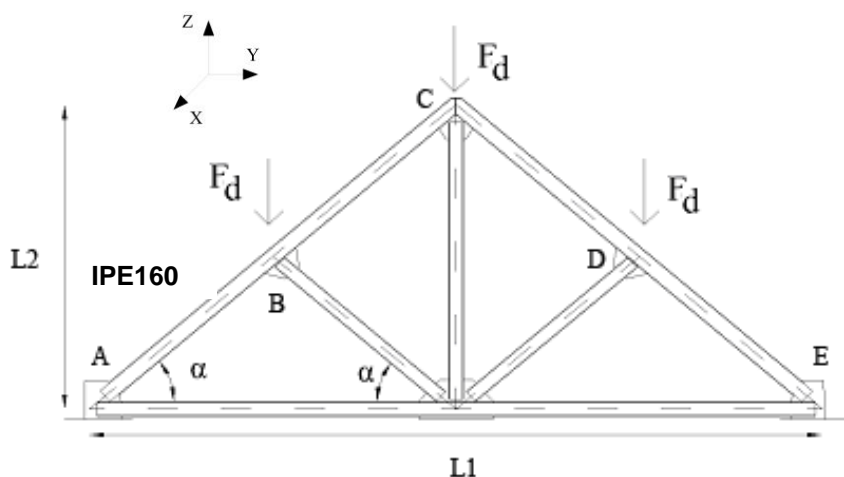
### Esercitazione 3

## PROGETTO E VERIFICA DI MEMBRATURE COMPRESSE

- Si consideri la struttura in figura, realizzata in acciaio classe S275, costituita da una trave AB ed un puntone BC. I vincoli in A e in C sono cerniere. Si consideri il nodo B incapace di trasferire momento flettente e vincolato a non spostarsi fuori dal piano. Si considerino le seguenti dimensioni:  $L_1=3.5\text{m}$ ,  $L_2=1.2\text{m}$ ,  $H=4.5\text{m}$ . Sulla trave AB agisce un carico uniformemente distribuito  $p_d=40\text{kN/m}$ . Sul nodo B agisce una forza concentrata  $F_d=105\text{kN}$ . Per entrambi i carichi è fornito il valore di progetto. Si considerino trascurabili gli effetti del peso proprio delle aste. Verificare allo SLU la trave AB, costituita da un profilo IPE240, e il puntone BC, costituito da un profilo HEA140.



- Si consideri la capriata in figura e si effettui la verifica di stabilità dei puntoni (AC-CE) costituiti da profilati IPE160, considerando i nodi A, B, C, D, E vincolati rispetto ad uno spostamento fuori dal piano.



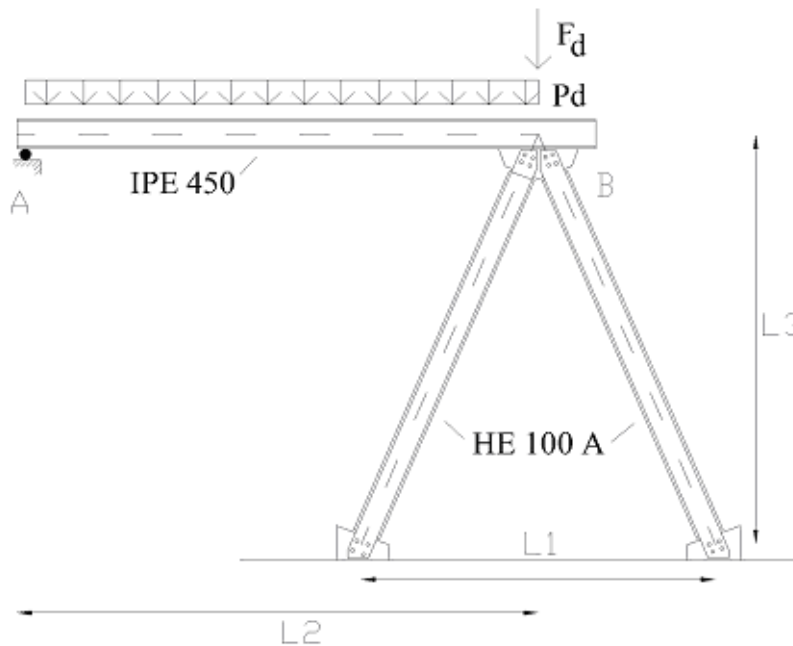
#### Dati geometrici

- $L_1=6.5\text{m}$
- $L_2=2.8\text{m}$

#### Materiali e carichi:

- Acciaio: S275
- Carichi:  $F_d=79\text{kN}$

3. Si consideri la struttura in figura, costituita da una trave IPE450 di luce  $L_2=8\text{m}$  che poggia a sinistra (A) su una cerniera e a destra (nodo B) su un cavalletto in acciaio di altezza  $L_3=3.5\text{m}$  e larghezza complessiva alla base  $L_1=3\text{m}$ . La trave in acciaio è soggetta ad un carico di calcolo uniformemente distribuito  $p_d=30\text{kN/m}$ . Sul nodo B agisce anche una forza concentrata  $F_d=80\text{kN}$ . Effettuare la verifica di stabilità delle aste del cavalletto costituite da profilati HEA100 di acciaio S235 considerando il nodo B impedito di spostarsi fuori dal piano.



**Dati geometrici**

- $L_1 = 3\text{ m}$
- $L_2 = 8\text{ m}$
- $L_3 = 3.5\text{ m}$

**Materiali e carichi:**

- Acciaio: S 235
- $P_d = 30\text{ KN/m}$
- $F_d = 80\text{ KN}$

4. Progettare adottando un profilo HEA una mensola di luce  $L=3.8\text{m}$ , utilizzando un acciaio di classe S355, soggetta ad uno sforzo di compressione  $N_{Ed}=320\text{kN}$ .
5. Verificare un'asta costituita da due profili a L a lati uguali  $80\times 8$ , di lunghezza totale  $L=2.8\text{m}$ , incernierata ad entrambe le estremità e dotata di 3 fazzoletti intermedi di spessore  $8\text{mm}$  e posti a passo costante. L'asta è realizzata in acciaio di classe S275 ed è soggetta ad uno sforzo di compressione  $N_{Ed}=240\text{kN}$ . Si assuma che la condizione di vincolo cerniera-cerniera sia valida per tutti i possibili piani di inflessione.